

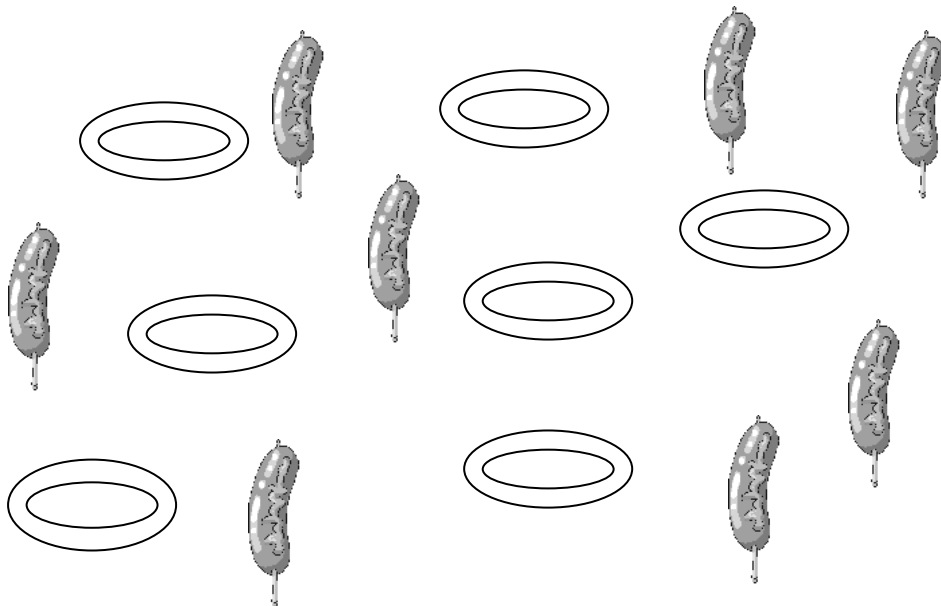


道教青松小學(湖景邨)  
幼稚園數學邀請賽  
題目示例

1. 下面兩組青蛙，哪一組比較多？在較多的一組加上「✓」

<input type="checkbox"/>	
<input type="checkbox"/>	





2. 下面每隻碟子可放一條香腸，請把多出的物件圈出來。




道教青松小學(湖景邨)  
幼稚園數學邀請賽  
題目示例

3. 每隻貓只可吃 1 條魚，牠們該挑哪一份最合適？  
在方格內加上「✓」



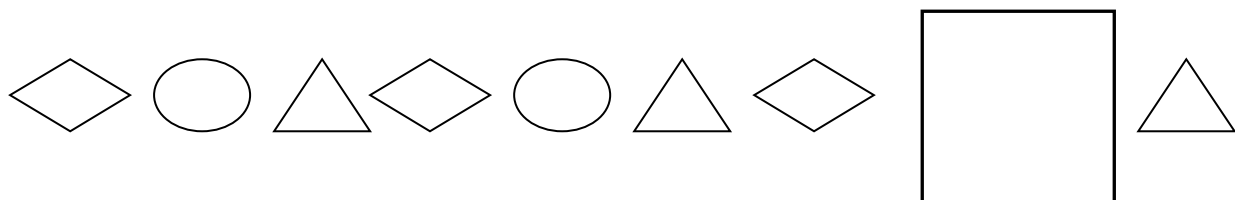
  <input type="checkbox"/>	  <input type="checkbox"/>	  <input type="checkbox"/>	  <input type="checkbox"/>
--------------------------------------------------------------------------------------------------------------------	--------------------------------------------------------------------------------------------------------------------	---------------------------------------------------------------------------------------------------------------------	----------------------------------------------------------------------------------------------------------------------

4. 下面有多少塊膠擦？把數字填在橫線上。

	<p>_____ 塊</p>
-------------------------------------------------------------------------------------	----------------

道教青松小學(湖景邨)  
幼稚園數學邀請賽  
題目示例

5. 依排列次序，在方格內畫上缺去的圖形。



6. 在下圖中，從左至右排列，★ 排列在第幾位？



第\_\_\_\_\_位

7. 在橫線上填上適當的數字。

20 \_\_\_\_\_ 18 17 \_\_\_\_\_ 15

8. 請圈出下列最大的數。

4      13      21      9      17